



GOVERNO MUNICIPAL DE ALTAMIRA DO PARANÁ

CNPJ: 78.069.143/0001-47

Rua Cantú, 180 – Centro – Altamira do Paraná/Pr- CEP 85.280-000

Gestão 2025 - 2028

PROCESSO SELETIVO PÚBLICO Nº 01/2025 – PARA PROVIMENTO DE VAGAS PARA O QUADRO DE PESSOAL DO MUNICÍPIO DE ALTAMIRA DO PARANÁ – PR – CONTRATAÇÃO POR TEMPO INDETERMINADO.

AGENTE COMUNITÁRIA DE SAÚDE

AVALIAÇÃO DE LÍNGUA PORTUGUESA, MATEMÁTICA, CONHECIMENTOS GERAIS E CONHECIMENTOS ESPECÍFICOS CONTENDO 40 QUESTÕES OBJETIVAS.

Nome completo: _____

Documento de identificação (RG OU CPF): _____

Cargo pretendido: _____

Data: ____/____/____

Exemplo de preenchimento do gabarito:

Obs: Não serão permitidas rasuras ou respostas duplas. Questões rasuradas ou duplicadas no gabarito, serão anuladas.

Nº	Alternativas			
01	<input checked="" type="radio"/>	(B)	(C)	(D)
Ou				
01	<input type="radio"/>	(B)	(C)	(D)

MATEMÁTICA COM PESO 30, SENDO 10 QUESTÕES VALENDO 3 PONTOS CADA .

LÍNGUA PORTUGUESA COM PESO 20, SENDO 10 QUESTÕES VALENDO 2 PONTOS CADA .

CONHECIMENTOS GERAIS COM PESO 20, SENDO 10 QUESTÕES VALENDO 2 PONTOS CADA .

CONHECIMENTOS ESPECÍFICOS COM PESO 30, SENDO 10 QUESTÕES VALENDO 3 PONTOS CADA .

O CANDIDATO NÃO PODERÁ ZERAR EM NENHUMA DAS DISCIPLINAS.

CONTEÚDO PROGRAMÁTICO:

LÍNGUA PORTUGUESA: leitura, gêneros textuais, verbos, substantivos, ortografia, divisão silábica, acentuação e pronomes. **MATEMÁTICA:** porcentagem, as quatro operações fundamentais, localização, figuras geométricas espaciais, sistema monetário. **CONHECIMENTOS GERAIS:** História do Brasil, corpo humano, símbolos do Paraná. **CONHECIMENTOS ESPECÍFICOS:** leis relacionadas à profissão, doenças parasitárias, doenças compulsórias e não compulsórias, política nacional de atenção básica e atribuições do cargo.



Língua Portuguesa:

Leia o texto abaixo e responda as questões 1, 2 e 3.

Tarefa difícil

Ainda é cedo quando um jovem entra na fazenda à procura de serviço. Logo é atendido pelo fazendeiro, que lhe dá a primeira tarefa.

--- Tome este banquinho e este balde. Vá ali naquele galpão e tire o leite da Malhada. É minha vaquinha leiteira.

--- Certamente, senhor! Vou agora mesmo!

Bastante animado, lá vai o rapaz.

Não demora muito e ouvem-se mugidos e gritaria. O rapaz sai apressadamente do galpão segurando o banquinho em uma mão e o balde, sem nenhuma gota de leite, na outra.

--- O que houve? - Perguntou o fazendeiro.

--- Senhor, tirar leite da vaca até que é fácil, mas fazer ela sentar no banquinho, não dá mesmo!

Fonte: Livro Bem-te-li. 4ª série. FTD. P. 98.

01) Este texto é uma narrativa, o gênero dele é:

- (A) receita
- (B) anedota
- (C) notícia
- (D) fábula

02) Em qual destes trechos há traços de humor?

- (A) Tome este banquinho e este balde.
- (B) O rapaz sai apressadamente do galpão.
- (C) Fazer ela sentar no banquinho, não dá mesmo!
- (D) É minha vaquinha leiteira.

03) Quais são os adjetivos de vaquinha citados no texto?

- (A) minha e balde.
- (B) malhada e leiteira.
- (C) banquinho e galpão.
- (D) fazendeiro e rapaz.

04) Assinale a alternativa em que TODO o grupo de palavras está escrito de maneira correta:

- (A) boné, cône, chão e órgão
- (B) bone, cone, chao, orgao
- (C) boné, cone, chão e órgão
- (D) bone, cône, chão e órgão



GOVERNO MUNICIPAL DE ALTAMIRA DO PARANÁ

CNPJ: 78.069.143/0001-47

Rua Cantú, 180 – Centro – Altamira do Paraná/Pr- CEP 85.280-000

Gestão 2025 - 2028

05) Assinale a alternativa em que TODAS as palavras são paroxítonas:

- (A) café, sabiá, anéis e chapéu
- (B) táxi, hífen, caráter e tênis
- (C) árvore, lâmpada, física e próximo
- (D) árvore, táxi, café e tênis

06) Coloque (V) para verdadeiro e (F) para falso:

- () ELA é um pronome pessoal do caso reto.
- () ESTE é um pronome pessoal do caso reto.
- () MINHA é um pronome possessivo.
- () ESTE é um pronome demonstrativo.
- () ALGUÉM é um pronome definido.

- (A) V,F,V,V,F
- (B) V,V,V,F,F
- (C) V,V,F,V,V
- (D) F, F,V,V,F

Leia o texto com atenção e responda as questões:

Elevador cai do 4º andar e fere 8 em São Carlos – SP

Um elevador despencou ontem do 4º andar de um edifício em **São Carlos**, no interior paulista, com 11 pessoas dentro. O Corpo de Bombeiros socorreu dez vítimas do acidente, sendo que cinco foram levadas à **Santa Casa** da cidade, mas apenas com ferimentos leves. Outras três pessoas tiveram escoriações.

— “O elevador, que tinha saído do 7º andar, tem capacidade para seis pessoas, cinco a menos que a lotação no momento do acidente.”

Funcionários da Polícia Científica do município fizeram hoje a vistoria do elevador do Edifício Ana Paula, no bairro **Vila Nery**. Moradores já reclamavam a substituição do antigo elevador e pagaram nos últimos meses uma taxa de condomínio para que fosse feita a troca. A Polícia Científica investiga se a causa do acidente foi mesmo o excesso de pessoas.

Agência Estado. Disponível em: <http://www.globo.com>

07) Qual é o assunto principal deste texto?

- (A) Uma briga no elevador.
- (B) Uma morte dentro do elevador.
- (C) Um acidente com um elevador.
- (D) Um incêndio no elevador.



GOVERNO MUNICIPAL DE ALTAMIRA DO PARANÁ

CNPJ: 78.069.143/0001-47

Rua Cantú, 180 – Centro – Altamira do Paraná/Pr- CEP 85.280-000

Gestão 2025 - 2028

08) As palavras destacadas no texto são:

- (A) Substantivos comuns.
- (B) Substantivos abstratos.
- (C) Substantivos derivados.
- (D) Substantivos próprios.

**09) As palavras a seguir são classificadas respectivamente como:
(Ana Paula, elevador, cinco e hoje)**

- (A) Pronome, verbo, numeral cardinal, numeral ordinal.
- (B) Substantivo próprio, verbo, numeral cardinal, advérbio de tempo.
- (C) Substantivo próprio, substantivo comum, numeral cardinal e advérbio de tempo.
- (D) Pronome, substantivo comum, artigo definido e adverbio de lugar.

10) O texto “Elevador cai do 4º andar e fere 8 em São Carlos – SP”, pode ser classificado como:

- (A) notícia
- (B) fábula
- (C) poema
- (D) anedota

Matemática

11) Para conseguir dinheiro para a construção de uma quadra de esportes, a diretora de uma escola mandou confeccionar camisetas que foram vendidas ao preço de R\$ 12,00 cada. Com a venda foram arrecadados R\$ 996,00. Quantas camisetas foram vendidas?

- (A) 73
- (B) 74
- (C) 83
- (D) 84

12) Observe a tabela que mostra alguns dados, aproximados, sobre a Ponte Rio-Niterói, ponte que une a cidade do Rio de Janeiro à de Niterói e é uma das maiores pontes do mundo.

Extensão total	13.290 m
Extensão sobre o mar	8.836 m
Extensão em terra	4.454 m
Extensão da estrutura metálica	848 m
Largura total	26.60 m



GOVERNO MUNICIPAL DE ALTAMIRA DO PARANÁ

CNPJ: 78.069.143/0001-47

Rua Cantú, 180 – Centro – Altamira do Paraná/Pr- CEP 85.280-000

Gestão 2025 - 2028

Marque a afirmativa correta:

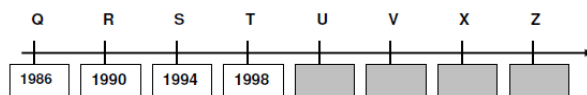
- (A) A extensão total da ponte é a soma da extensão sobre a terra com a extensão sobre o mar.
- (B) A extensão da estrutura metálica da Ponte Rio-Niterói ultrapassa mil metros.
- (C) A Ponte Rio-Niterói tem extensão menor sobre o mar do que sobre a terra.
- (D) A largura total da ponte é maior que sua extensão total.

13) Natália comprou um tênis por R\$ 64,00 e recebeu um desconto de 25% por pagar em dinheiro. Quanto Natália pagou pelo tênis?

- (A) R\$ 48,00
- (B) R\$ 41,00
- (C) R\$ 39,00
- (D) R\$ 52,00

14) Em 2010, pela primeira vez na história, a Copa do Mundo foi realizada no continente africano. A África do Sul foi a sede do evento. Em 2014, a Copa do Mundo foi realizada no Brasil. O evento retornou ao território brasileiro após 64 anos, pois foi em 1950 que ocorreu a Copa do Mundo no Brasil.

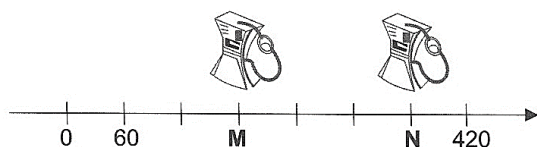
Observe a reta numérica abaixo, com os anos das Copas do Mundo a partir de 1986.



Nessa reta numérica, o ano **2010** encontra-se na posição marcada com a letra

- (A) U.
- (B) V.
- (C) X.
- (D) Z.

15) A figura abaixo representa a localização de dois postos de combustível ao longo de uma rodovia, indicados pelas letras M e N.



Os dois postos de combustíveis estão localizados, respectivamente, nos quilômetros

- (A) 100 e 400.
- (B) 120 e 360.
- (C) 180 e 360.
- (D) 200 e 360.



GOVERNO MUNICIPAL DE ALTAMIRA DO PARANÁ

CNPJ: 78.069.143/0001-47

Rua Cantú, 180 – Centro – Altamira do Paraná/Pr- CEP 85.280-000

Gestão 2025 - 2028

16) O IBGE divulgou as estimativas das populações residentes em alguns municípios brasileiros, com data de referência em 1º de julho de 2019. Estimava-se que o Brasil, para 2019, teria aproximadamente 210,5 milhões de habitantes. O quadro abaixo apresenta a população das capitais das regiões Sudeste e Centro-Oeste do Brasil.

Região Sudeste		Região Centro-Oeste	
Capital	População	Capital	População
São Paulo	12.252.023	Campo Grande	895.982
Vitória	362.097	Cuiabá	612.547
Rio de Janeiro	6.718.903	Goiânia	1.516.113
Belo Horizonte	2.512.070	Brasília	3.015.268

Fonte: IBGE, 2019. Acesso em 14.10.2019

Selecione a alternativa que apresenta, por extenso, o número de habitantes da capital mais populosa da região Centro-Oeste:

- (A) Doze milhões, duzentos e cinquenta e dois mil e vinte e três habitantes.
- (B) Trinta milhões, quinze mil, duzentos e sessenta e oito habitantes.
- (C) Três milhões, quinze mil, duzentos e sessenta e oito habitantes.
- (D) Um milhão, quinhentos e dezesseis mil, cento e treze habitantes.

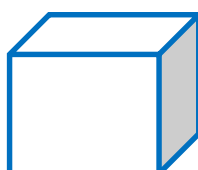
17) No 8º ano, os 18 meninos correspondem a 75% da turma. Assim, pode-se dizer que neste 8º ano tem:

- (A) 18 alunos
- (B) 25 alunos
- (C) 67 alunos
- (D) 24 alunos

18) Ganhei R\$ 800,00 de aniversário de meu avô. Gastei 40% deste valor com a compra de um brinquedo. Quanto custou este brinquedo?

- (A) R\$ 400,00
- (B) R\$ 32,00
- (C) R\$ 320,00
- (D) R\$ 40,00

19) Em qual alternativa os nomes das figuras abaixo estão escritos corretamente de forma respectiva:





GOVERNO MUNICIPAL DE ALTAMIRA DO PARANÁ

CNPJ: 78.069.143/0001-47

Rua Cantú, 180 – Centro – Altamira do Paraná/Pr- CEP 85.280-000

Gestão 2025 - 2028

- (A) cone, dado e paralelepípedo
- (B) cilindro, cubo e paralelepípedo
- (D) cilindro, cubo e retângulo
- (E) cone, dado e paralelepípedo

20) Uma apresentação teatral do 9º ano iniciou às 8h30min e terminou às 10h15min. A duração dessa apresentação foi de:

- (A) 18h e 45 minutos.
- (B) 2 horas e 30 minutos.
- (C) 2 horas e 45 minutos.
- (D) 1 hora e 45 minutos.

Conhecimentos Gerais:

21) Qual é a ave e a árvore, símbolos do Paraná, respectivamente:

- (A) sabiá e ipê roxo.
- (B) gralha-azul e araucária.
- (C) sabiá e ipê amarelo.
- (D) gralha-azul e eucalipto.

22) Relacione e marque a alternativa com as respostas corretas:

- | | |
|--------------------------|---|
| (1) Energia eólica | (a) gerada à partir de queda d'água |
| (2) Energia solar | (b) gerada à partir da matéria orgânica |
| (3) Energia hidrelétrica | (c) gerada à partir da força dos ventos |
| (4) Energia biomassa | (d) gerada à partir da luz solar |

- (A) 1c, 2d, 3a e 4b
- (B) 1c, 2d, 3b e 4a
- (C) 1b, 2d, 3a e 4c
- (D) 1a, 2b, 3c e 4d

23) Quem assinou a Lei Áurea?

- (A) Princesa Maria Leopoldina.
- (B) Dom Pedro I.
- (C) Dom Pedro II.
- (D) Princesa Isabel.

24) Onde e quando D. Pedro deu o “grito de Independência”?

- (A) No Rio de Janeiro, em 15 de novembro de 1889.
- (B) Às margens do riacho Ipiranga, em 07 de setembro de 1888.
- (C) Às margens do rio Tietê, em 15 de novembro de 1822.
- (D) Às margens do riacho Ipiranga, em 07 de setembro de 1822.



GOVERNO MUNICIPAL DE ALTAMIRA DO PARANÁ

CNPJ: 78.069.143/0001-47

Rua Cantú, 180 – Centro – Altamira do Paraná/Pr- CEP 85.280-000

Gestão 2025 - 2028

25) O que é Folclore?

- (A) Curupira, Mula-sem-cabeça, Lobisomem e Iara.
- (B) É a extração de recursos naturais (vegetais, animais ou minerais) de forma responsável e equilibrada, utilizando práticas que minimizam o impacto ambiental.
- (C) Conjunto de mitos, crenças e histórias internacionais, tradições e costumes que são transmitidos através da televisão e integram a etnia.
- (D) Conjunto de mitos, crenças, histórias populares, lendas, tradições e costumes que são transmitidos de geração em geração e integram a cultura popular.

26) Quais são os órgãos dos sentidos?

- (A) visão, paladar, tato, audição e olfato.
- (B) tato, olfato, audição, olhos e boca.
- (C) olhos, língua, pele, ouvido e nariz.
- (D) som, imagem, gosto, cheiro e toque.

27) Em qual rio está localizada a Usina de Itaipu?

- (A) Rio Iguaçu
- (B) Rio Paraná
- (C) Rio Paranapanema
- (D) Rio Paraguai

28) Marque (V) para Verdadeiro e (F) para falso:

- () O mais famoso quilombo brasileiro foi o Quilombo de Palmares.
- () Zumbi liderava o Quilombo de Palmares.
- () O Quilombo do Jabaquara era liderado por Zumbi.
- () O nome de Tiradentes era Luís Alves de Lima e Silva.
- () A Lei Áurea foi assinada no dia 13 de maio de 1888.

- (A) V, V, F, F, V
- (B) V, F, F, V, V
- (C) V, V, V, V, V
- (D) F, F, F, V, V



GOVERNO MUNICIPAL DE ALTAMIRA DO PARANÁ

CNPJ: 78.069.143/0001-47

Rua Cantú, 180 – Centro – Altamira do Paraná/Pr- CEP 85.280-000

Gestão 2025 - 2028

29) O território brasileiro está dividido politicamente em:

- (A) 27 Unidades da Federação, que são 26 Estados e 1 Distrito Federal.
- (B) 26 Unidades da Federação, que são 25 Estados e 1 Distrito Federal.
- (C) 27 Unidades da Federação, que são 25 Estados e 2 Distritos Federais.
- (D) 27 Unidades da Federação, que são os Estados e os Municípios.

30) O Estado do Paraná tem quantos Municípios?

- (A) 388
- (B) 299
- (C) 399
- (D) 395

Conhecimentos Específicos

31) Sobre as Equipes de Saúde da Família, é CORRETO afirmar:

- (A) Cada equipe é composta, minimamente, por um médico, um enfermeiro e ACS, cujo total não deve ultrapassar a 6.
- (B) Cada equipe é composta, minimamente, por um médico, um enfermeiro e ACS, cujo total não deve ultrapassar a 8.
- (C) Cada equipe é composta, minimamente, por um médico, um enfermeiro e ACS, cujo total não deve ultrapassar a 10.
- (D) Cada equipe é composta, minimamente, por um médico, um enfermeiro, um auxiliar de enfermagem ou técnico de enfermagem e ACS (sendo que o número varia conforme a população).

32) O agente comunitário de saúde em uma de suas visitas a uma casa se deparou com o seguinte caso: uma criança estava com febre repentina, náuseas e inchaço de uma ou mais glândulas salivares, mais comumente aquelas localizadas no ângulo da região maxilar (parótidas). O médico que fazia a visita junto com o agente ainda comunicou que o inchaço que atinge seu máximo em 24 horas, pode durar de 07 a 10 dias. Nos meninos a infecção pode causar dor e inchaço dos testículos. Diante desse relato, a criança apresentava um caso de:

- (A) catapora.
- (B) dengue.
- (C) caxumba.
- (D) coqueluche.



GOVERNO MUNICIPAL DE ALTAMIRA DO PARANÁ

CNPJ: 78.069.143/0001-47

Rua Cantú, 180 – Centro – Altamira do Paraná/Pr- CEP 85.280-000

Gestão 2025 - 2028

33) São doenças de transmissão direta imediata, EXCETO:

- (A) Sarampo
- (B) Tuberculose pulmonar
- (C) Hanseníase
- (D) Dengue

34) A profilaxia da ascaridíase pode ser feita através do seguinte cuidado:

- (A) Lavagem dos alimentos.
- (B) Esterilização das roupas.
- (C) Proteção dos pés.
- (D) Escovação dos dentes.

35) Coloque (V) para verdadeiro e (F) para falso e assinale a alternativa correta:

- () o Covid-19 é uma doença viral que causou uma pandemia.
- () a eliminação da bactéria que causa a hanseníase é feita através da pele;
- () é necessário controlar a propagação da cólera porque ela pode causar epidemias graves;
- () A bactéria que causa a hanseníase é a Mycobacterium leprae.

- (A) V,F,V e V
- (B) V,V,V e F
- (C) F,V,V e V
- (D) V,F,F e V

36) A lei federal que instituiu e regulamentou a profissão dos Agentes de Combate às Endemias e Agentes Comunitários de Saúde:

- (A) Lei nº 11.350/2006;
- (B) Lei nº 11.381/2006;
- (C) Lei nº 12.350/2006;
- (D) Lei nº 12.381/2006;



GOVERNO MUNICIPAL DE ALTAMIRA DO PARANÁ

CNPJ: 78.069.143/0001-47

Rua Cantú, 180 – Centro – Altamira do Paraná/Pr- CEP 85.280-000

Gestão 2025 - 2028

37) A lei que estabeleceu o piso dos agentes comunitários de saúde e de combate às endemias, que fixou um piso salarial nacional. Mais recentemente, a Emenda Constitucional nº 120/2022 estabeleceu que esse piso deve corresponder a, no mínimo, dois salários mínimos e incluiu outros benefícios, como aposentadoria especial e adicional de insalubridade.

- (A) é a Lei nº 12.994/2024
- (B) é a Lei nº 12.994/2014
- (C) é a Lei nº 12.995/2015
- (D) é a Lei nº 12.993/2014

38) A hanseníase é uma doença infecciosa crônica causada por uma bactéria cuja principal via de eliminação pelo indivíduo doente é:

- (A) o sangue.
- (B) através das vias respiratórias.
- (C) a pele e mucosas.
- (D) a linfa.

39) Assinale a alternativa incorreta:

- (A) A visita domiciliar é uma forma de atenção em saúde coletiva voltada para o atendimento ao indivíduo, à família ou à coletividade;
- (B) A visita domiciliar é prestada nos domicílios ou junto aos diversos recursos sociais locais, visando a maior equidade da assistência em saúde;
- (C) A visita domiciliar é um instrumento que não permite ao profissional da saúde interagir com o meio em que o indivíduo vive, observar e conhecer sua realidade;
- (D) A visita domiciliar é vital para a educação em saúde.

40) Dentre as opções abaixo, qual é a única doença transmitida pelo contato direto?

- (A) Raiva;
- (B) Leptospirose;
- (C) Doença de Chagas;
- (D) Cólera.